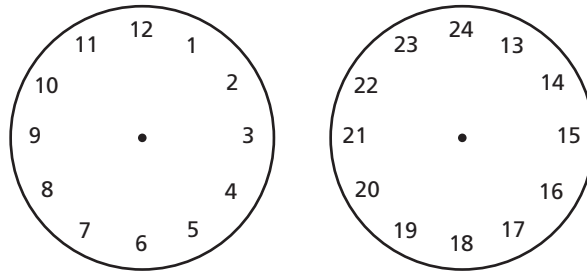
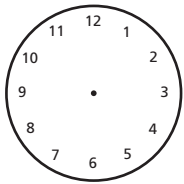
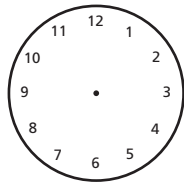


De tijd

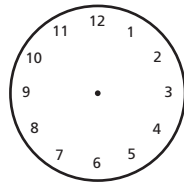
1 dag heeft precies 24 uren.

1. Teken de tijd in:

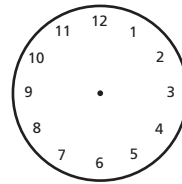
4 uur



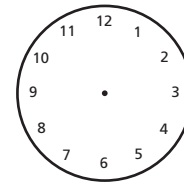
12 uur



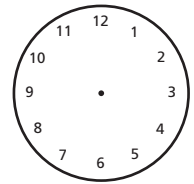
19 uur



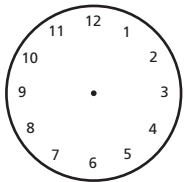
1 uur



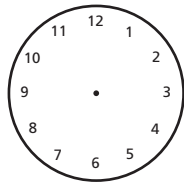
15 uur



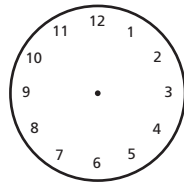
21 uur



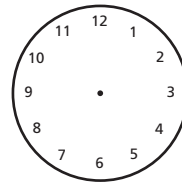
23 uur



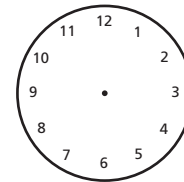
5 uur



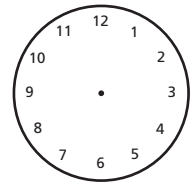
2 uur



13 uur



18 uur



22 uur

2. Hoeveel uur zijn er verstreken?

Marcel is van 12 uur tot 16 uur aan het skiën. _____

Christina heeft van 13 uur tot 15 uur pianoles. _____

De supermarkt is van 8 uur tot 19 uur geopend. _____

De bioscoopfilm begint om 17 uur en eindigt om 19 uur. _____

Oma gaat van 10 uur tot 13 uur met de hond wandelen. _____

3. Reken de volgende sommen uit:

Martine komt om 19 uur bij haar familie aan. Ze was 5 uur met de auto onderweg. Hoe laat is ze weggereden? _____

Andreas begint om 14 uur het magazijn op te ruimen. Hij heeft hier 4 uur voor nodig. Hoe laat is hij klaar? _____

De schilder begint om 9 uur het huis te schilderen. Om 15 uur is hij klaar. Hoeveel uur heeft hij hiervoor nodig gehad? _____

Mama komt om 15 uur naar huis. Ze heeft 3 uur gefietst. Hoe laat is ze weggereden? _____

Papa begint om 17 uur te tennissen. Om 20 uur stopt hij ermee. Hoeveel uur heeft hij gespeeld? _____