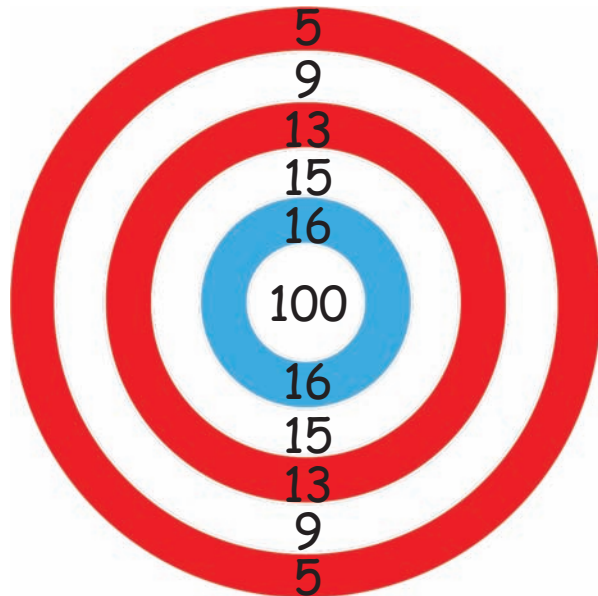
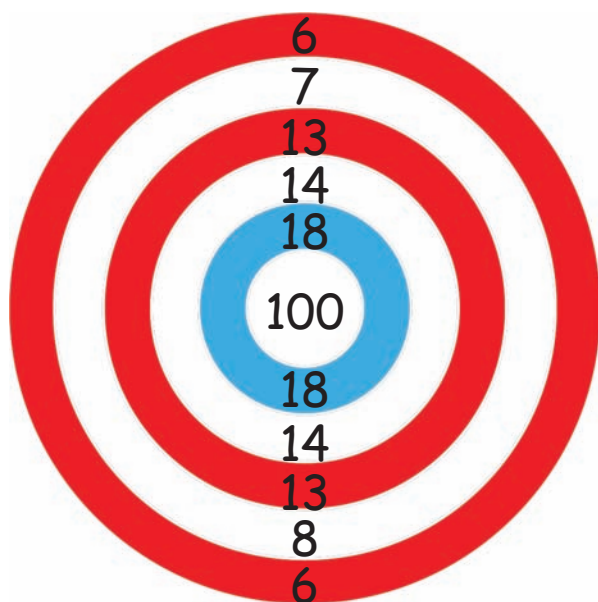


Het doel net gemist

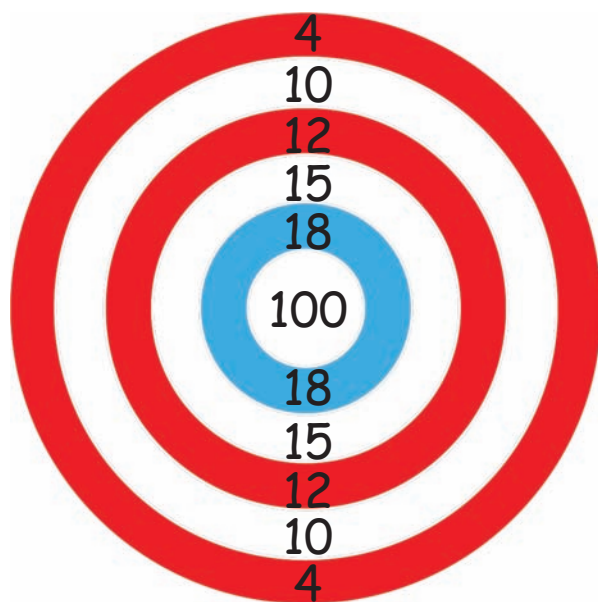
Een indiaan heeft met pijl en boog 9 keer op een schijf geschoten, maar helaas nooit het centrum geraakt. Hoe heeft hij toch een totaal aantal punten van 100 behaald? Er zijn steeds meerdere oplossingen mogelijk. Schrijf voor elke schrijf een mogelijke oplossing op.



Voorgestelde oplossing:
2x5, 2x9, 2x13, 2x15, 1x16



Voorgestelde oplossing:
3x6, 1x7, 3x13, 2x18



Voorgestelde oplossing:
2x4, 2x10, 3x12, 2x18