


Tekstopgaven optellen - getallengebied tot 10

Lees de opgave. Vul de oplossing in.
Een voorbeeld:

Dit zijn 3 .

Sabine plukt er 2 bij.
Hoeveel zijn er in totaal?

$$\underline{3} + \underline{2} = \underline{5}$$

Dit zijn 4 .


Sabine plukt er 2 bij.
Hoeveel zijn er in totaal?

$$\underline{4} + \underline{2} = \underline{6}$$

Dit zijn 6 .


Sabine plukt er 3 bij.
Hoeveel zijn er in totaal?

$$\underline{6} + \underline{3} = \underline{9}$$

Dit zijn 3 .

Sabine plukt er 4 bij.
Hoeveel zijn er in totaal?

$$\underline{3} + \underline{4} = \underline{7}$$

Dit zijn 5 .


Sabine plukt er 2 bij.
Hoeveel zijn er in totaal?

$$\underline{5} + \underline{2} = \underline{7}$$

Dit zijn 8 .

Sabine plukt er 2 bij.
Hoeveel zijn er in totaal?

$$\underline{8} + \underline{2} = \underline{10}$$

Dit zijn 3 .

Sabine plukt er 5 bij.
Hoeveel zijn er in totaal?

$$\underline{3} + \underline{5} = \underline{8}$$

Dit zijn 2 .

Sabine plukt er 2 bij.
Hoeveel zijn er in totaal?

$$\underline{2} + \underline{2} = \underline{4}$$

Dit zijn 7 .

Sabine plukt er 3 bij.
Hoeveel zijn er in totaal?

$$\underline{7} + \underline{3} = \underline{10}$$