
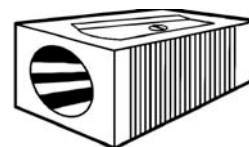




Welke objecten trekken een magneet aan?

- Kruis aan welke voorwerpen door een magneet worden aangetrokken.
- Met de letters die je door de oplossing verkrijgt kun je de zin onderaan oplossen.
- Neem drie voorwerpen, schrijf ze in de lege kolommen en kijk of ze magnetisch zijn.

Oplossing	Voorwerpen	magnetisch	niet magnetisch
R	Blouse		X
I	Sleutel	X	
A	Boek		X
J	Puntenslijper	X	
L	Dobbelsteen		X
Z	Schaar	X	
C	Poes		X
K	Tabletjes		X
E	Schroeven	X	
R	Spijker	X	



Alle voorwerpen die uit **I J Z E R** zijn trekken een magneet aan.