

Spelletjes

1. Welk nummer ontbreekt?

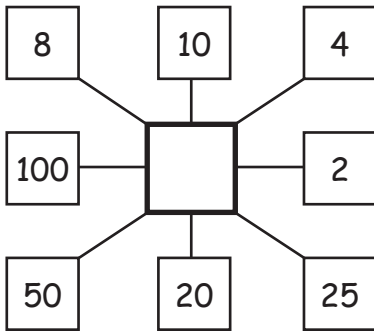
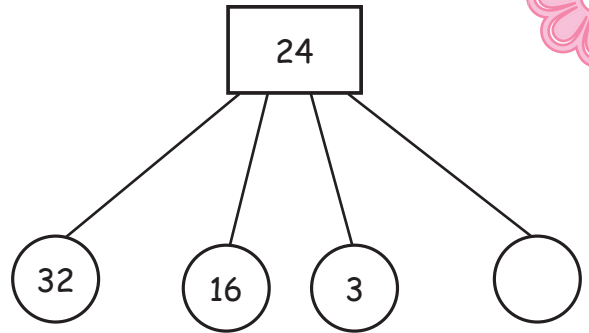
Welk getal moet op de lege plek staan?

$6 + 44 \dots$

$5 + 33 \dots$

$4 + 24 \dots$

$9 + \underline{\quad} \dots$



3. Code versleuteling

Het codenummer versleutelt het wachtwoord met een eenvoudige truc. Kun je achter de truc komen? Vul de ontbrekende geheime nummers in!

$135 \longrightarrow 975$

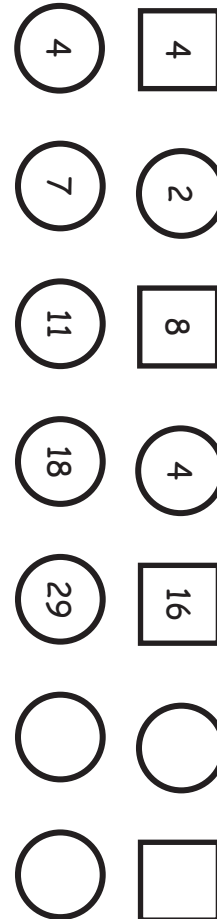
$684 \longrightarrow 426$

$341 \longrightarrow 769$

$\underline{\quad} \longrightarrow 318$

$\underline{\quad} \longrightarrow 847$

2.



Vul de getallenreeksen in!

Getallenreeksen