



## Jaar - maand - week



Wijs de afbeeldingen de juiste maanden toe!



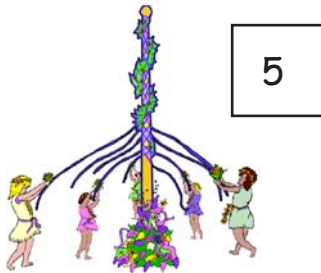
1











5



2







10



3

1 januari

april

juli

10 oktober

februari

mei

8 augustus

november

maart

6 juni

september

december

1 jaar heeft \_\_\_\_\_ maanden

1 jaar heeft \_\_\_\_\_ weken

## Jaar - maand - week



Welke maand is het?



<input type="checkbox"/> mei	<input type="checkbox"/> juli	<input type="checkbox"/> maart	<input type="checkbox"/> februari
<input type="checkbox"/> september	<input type="checkbox"/> december	<input type="checkbox"/> januari	<input type="checkbox"/> juni
<input type="checkbox"/> april	<input type="checkbox"/> oktober	<input type="checkbox"/> november	<input type="checkbox"/> augustus

Weekdagen:

maandag   dinsdag   woensdag   donderdag   vrijdag   zaterdag   zondag

Hoeveelste dag van de week is het?



<input type="checkbox"/> dinsdag	<input type="checkbox"/> maandag	<input type="checkbox"/> donderdag	<input type="checkbox"/> zaterdag
<input type="checkbox"/> vrijdag	<input type="checkbox"/> zondag	<input type="checkbox"/> woensdag	

Zoek een kalender en kijk na, op welke dag de volgende gebeurtenissen zijn:



24 december _____	1 mei _____
jouw verjaardag _____	12 september _____
24 juli _____	Hemelvaartsdag _____