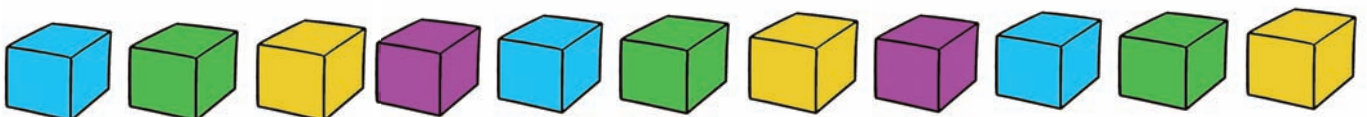
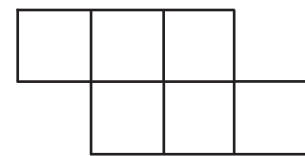


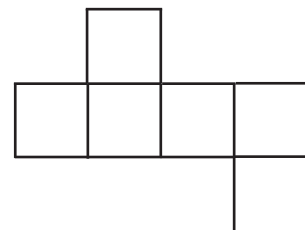
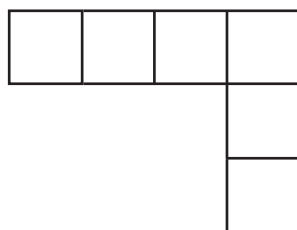
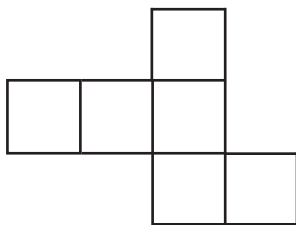
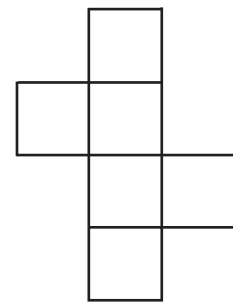
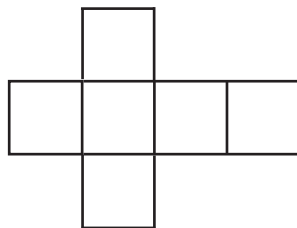
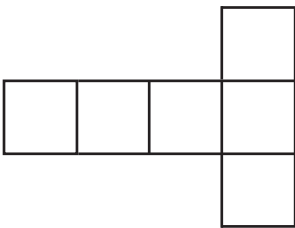




Welke plattegronden kunnen tot een kubus worden gevouwen?

Bekijk de plattegronden goed. 3 van hen kunnen niet tot een kubus worden gevouwen. Markeer deze 3 met een rood kruis. De andere, welke wel tot een kubus kunnen worden gevouwen, markeer je met een groen vinkje.



De oplossing en zeer veel andere werkbladen om gratis te downloaden:

www.aduis.nl. Neemt u een kijkje.