
















## Aftrekken - eenvoudige sommen en tekstopgaven

Los de sommen op! Als een klein hulpmiddel kun je de kleine aapjes gebruiken.

	$1 - 0 = \underline{\quad}$		$9 - 1 = \underline{\quad}$
	$4 - 3 = \underline{\quad}$		$6 - 2 = \underline{\quad}$
	$5 - 3 = \underline{\quad}$		$7 - 2 = \underline{\quad}$
	$9 - 7 = \underline{\quad}$		$3 - 0 = \underline{\quad}$
	$6 - 1 = \underline{\quad}$		$9 - 4 = \underline{\quad}$
	$9 - 6 = \underline{\quad}$		$5 - 4 = \underline{\quad}$
	$8 - 7 = \underline{\quad}$		$7 - 3 = \underline{\quad}$


Schrijf het antwoord op de lijn!

a) Christina heeft vandaag zes bananen in de winkel gekocht.  Morgen neemt ze 2 bananen mee naar school. Hoeveel bananen heeft ze dan nog thuis?

---

b) Floris heeft voor oudejaarsnacht 10 babyraketten gekocht. Hij heeft 5 stuks op 30 december afgestoken. Hoeveel stuks heeft hij in de oudejaarsnacht over?



c) Maria heeft op vakantie 5 prachtige armbanden gekocht. Toen ze thuis kwam, wilde ze een ervan aan haar beste vriendin cadeau geven en een aan haar zus. Hoeveel armbanden heeft ze zelf nog over? 

---

d) André heeft in de tuin 8 appels geplukt. 3 Van de appels zijn helaas door wormen aangevreten. Hoeveel appel houdt André nog over om zelf op te eten? 

---