


Delen in het getalengebied 20**1. Teken even hoge torens:**

Je hebt 20 bouwstenen ter beschikking.


Teken 5 torens.

20	:	5	=	
----	---	---	---	--



Teken 4 torens.


20	:	4	=	
----	---	---	---	--



Je hebt 12 bouwstenen ter beschikking.


Teken 3 torens.

12	:	3	=	
----	---	---	---	--



Teken 6 torens.


12	:	6	=	
----	---	---	---	--



Je hebt 18 bouwstenen ter beschikking.


Teken 9 torens.

18	:	9	=	
----	---	---	---	--



Teken 6 torens.

18	:	6	=	
----	---	---	---	--



2. Los de volgende sommen op:

15 : 3 =

14 : 7 =

6 : 3 =

16 : 8 =

20 : 5 =

9 : 0 =

5 : 1 =

18 : 6 =

8 : 2 =

16 : 4 =

10 : 5 =

20 : 2 =

12 : 6 =

18 : 9 =

4 : 2 =

8 : 4 =