

# Geldangelegenheiten

## Euro und Cent




a) Lies genau und schreibe richtig an!


1,99 € oder _____	0,25 € oder _____	12 € 36 c oder _____	6,89 € oder _____
0 € 54 c oder _____	31,72 € oder _____	4,03 € oder _____	63 € 1 c oder _____
72,10 € oder _____	99 € 12 c oder _____	59 € 91 c oder _____	15,03 € oder _____

b) Beim Einkaufen bekommst du oft Wechselgeld zurück. Berechne, wieviel dir die Verkäuferin zurückgegeben hat. Bemale anschließend die Kreise. Achte jeweils auf die Anzahl der Kreise.  
(1 Cent = **gelb**, 2 Cent = **rot**, 5 Cent = **grün**, 10 Cent = **blau**, 20 Cent = **braun**, 50 Cent = **grau**)


1 € - 63 c = \_\_\_\_\_ - Wechselgeld:



1 € - 41 c = \_\_\_\_\_ - Wechselgeld:



1 € - 84 c = \_\_\_\_\_ - Wechselgeld:



1 € - 22 c = \_\_\_\_\_ - Wechselgeld:



1 € - 13 c = \_\_\_\_\_ - Wechselgeld:

