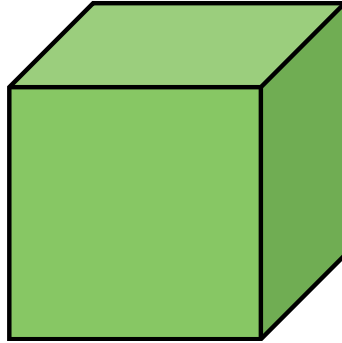
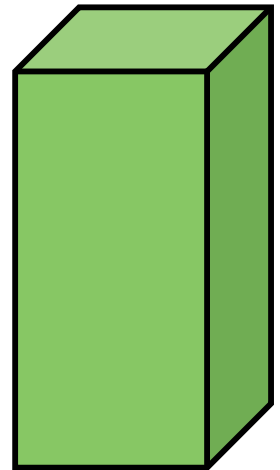



Geometrische vormen

Benoem de volgende geometrische vormen:

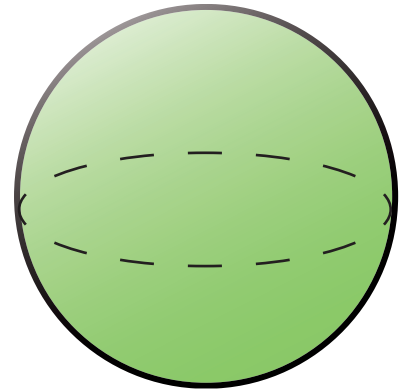












bol

kubus

piramide

balk


kegel

cilinder

Kijk goed naar de vormen van de lichamen en geef de overeenkomsten en verschillen van de volgende lichaamsvormen!

	overeenkomsten	verschillen
balk en kubus		
cilinder en kegel		
piramide en kegel		

Welke lichaamsvormen werden hier als stempel gebruikt? (Er zijn meerdere mogelijkheden!)





Beantwoord de volgende vragen over de balk:

Hoeveel hoeken heeft een balk? _____

Hoeveel randen heeft een balk? _____

Welk grondoppervlak heeft een balk? _____

