

Lijnstuk, straal, lijn

Definieer eerst de volgende begrippen, als hulpmiddel kun je de kleine vakjes gebruiken!

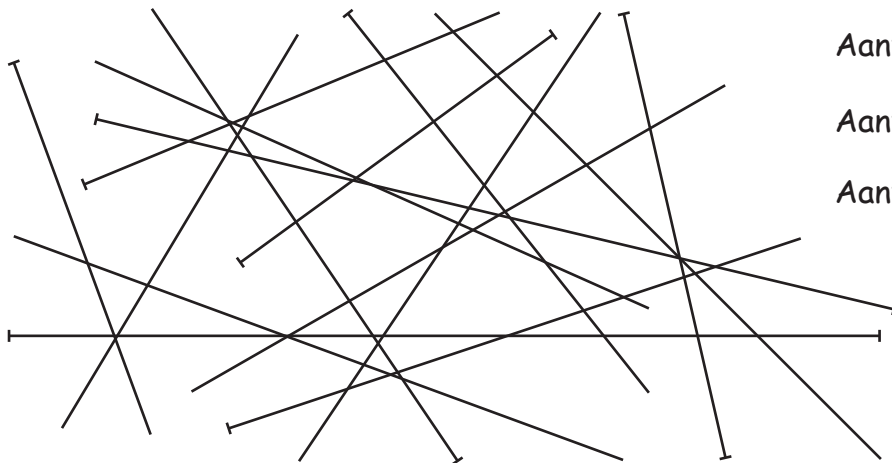
Lijnstuk:

Straal:

Lijn:

lijn die uitgaat van een beginpunt, maar geen eindpunt heeft
 kortste verbinding tussen twee punten
 lijn zonder begin- en eindpunt

1 Hoeveel lijnstukken, stralen, en lijnen kun je in deze afbeelding ontdekken?



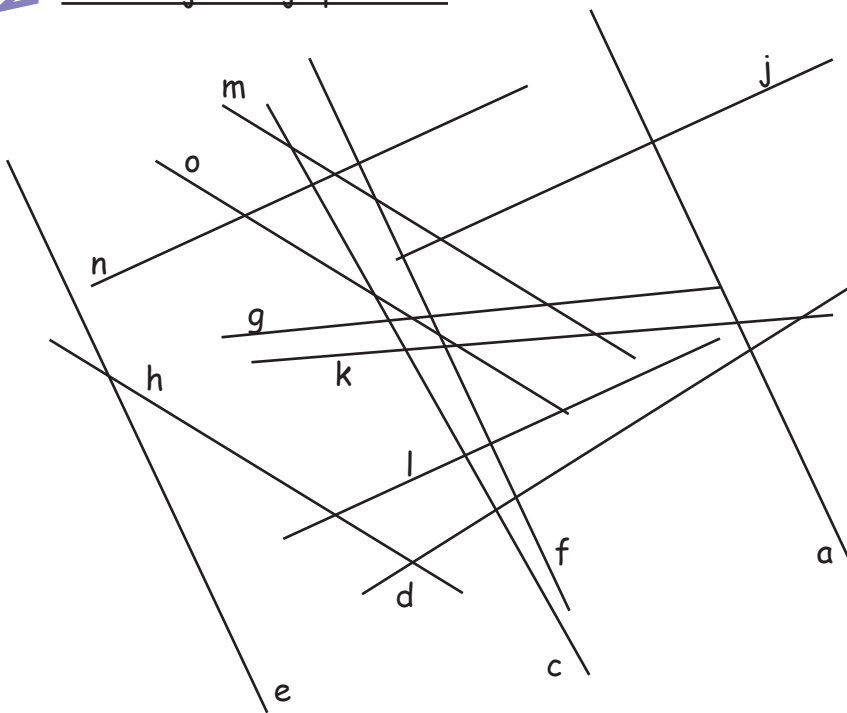
Aantal lijnstukken: _____

Aantal stralen: _____

Aantal lijnen: _____

Lijnstuk, straad, lijn

2 Welke lijnen zijn parallel?



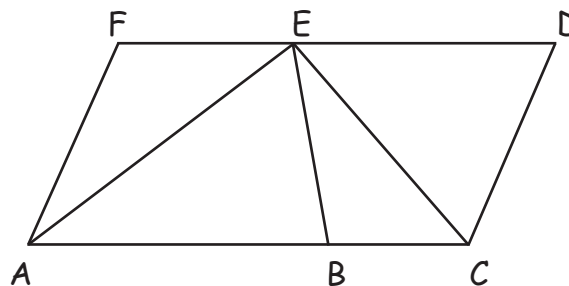
3 Welke van de volgende lijnstukken is langer?
Schat eerst en controleer je schatting vervolgens door te meten?

a.) AF of AE

b.) AE of CE

c.) BE of CD

d.) BC of EF



4 Teken een straad, die bij het punt C begint, een lijn op welke het punt A en C
liggen en de lijnstuk AB.

A_x

B_x

C_x