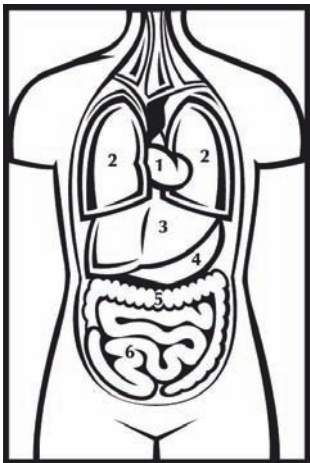



Opdat ons lichaam functioneert


Noem de opgaven van de organen:

Hart: _____
 Lever: _____
 Maag: _____
 Darmen: _____
 Nieren: _____
 Longen: _____



Bekijk de foto en vul de organen in:

1 = _____
 2 = _____
 3 = _____
 4 = _____
 5 = _____
 6 = _____



Leg je wijs- en middelvinger op de halsslagader. Tel gedurende 1 minuut, hoeveel keer je hart klopt. Vul je eigen waarden in:

In rust: _____
 Bij beweging: _____

