

















Bereken het wisselgeld

Stefan kreeg van zijn moeder 10 euro gekregen, waar hij iets van mag kopen.
Hoeveel geld krijgt hij telkens terug?

product	prijs	betaald met	wisselgeld
kauwgom	€ 2		
1 fles limonade	€ 1		
muts	€ 7		
paraplu	€ 6		
chocolade bonbons	€ 3		
etui	€ 9		
2 ijsjes	€ 4		
puzzelboek	€ 5		
kleurpotloden	€ 8	