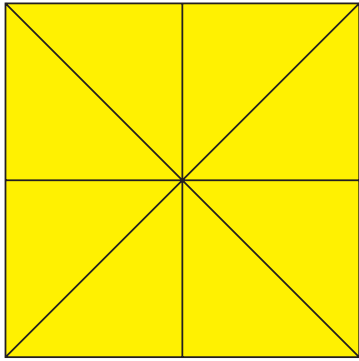




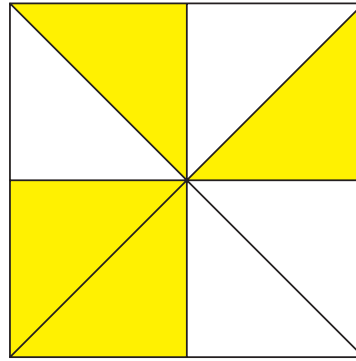
BREUKEN GEOMETRISCH WEERGEGEVEN



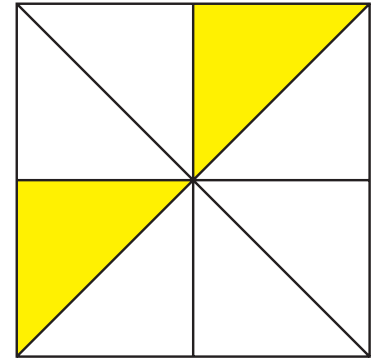
1 Schrijf de volgende weergaven als een breuk en als tekst!



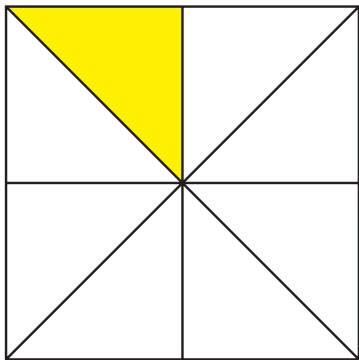
$\frac{1}{1}$ een heel



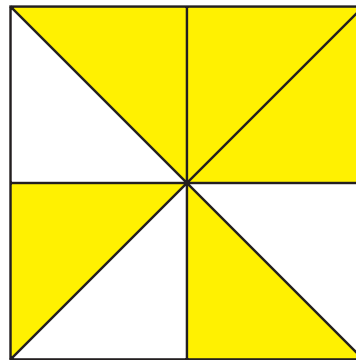
$\frac{1}{2}$ een halve



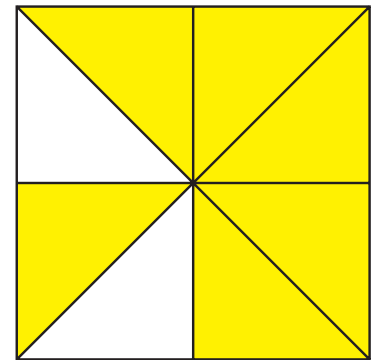
$\frac{1}{4}$ een kwart



$\frac{1}{8}$ een achtste




$\frac{5}{8}$ vijf achtste




$\frac{3}{4}$ drie kwart


2 Je ziet glazen met een bepaalde hoeveelheid water erin. Welk breukdeel ontbreekt nog op een hele liter (tot het glas vol is)?




$\frac{3}{8}$




$\frac{3}{5}$



$\frac{2}{7}$



$\frac{2}{3}$



$\frac{3}{6}$