


Correct verdelen

1. De tweeling Natasja en Chantal delen hun verjaardagscadeaus eerlijk:





$$\begin{array}{ccccccc} 8 & \text{gedeelt door} & 2 & \text{is} & 4 \\ 8 & : & 2 & = & 4 \end{array}$$




$$\begin{array}{ccccccc} 6 \text{ gedeeld door } 2 & \text{is} & \boxed{3} & 10 \text{ gedeeld door } 2 & \text{is} & \boxed{5} & 4 \text{ gedeeld door } 2 & \text{is} & \boxed{2} \\ 6 & : & 2 & = & \boxed{3} & 10 & : & 2 & = & \boxed{5} & 4 & : & 2 & = & \boxed{2} \end{array}$$

2. Delen door 3:



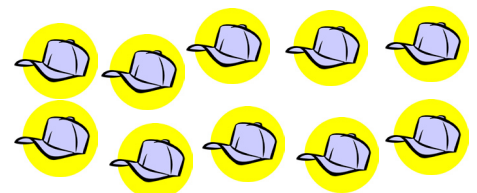


$$\begin{array}{ccccccc} 9 \text{ gedeeld door } 3 & \text{is} & \boxed{3} & 3 \text{ gedeeld door } 3 & \text{is} & \boxed{1} & 12 \text{ gedeeld door } 3 & \text{is} & \boxed{4} \\ 9 & : & 3 & = & \boxed{3} & 3 & : & 3 & = & \boxed{1} & 12 & : & 3 & = & \boxed{4} \end{array}$$

3. Delen door 4:



$$\begin{array}{ccccccc} 12 \text{ gedeeld door } 4 & \text{is} & \boxed{3} & 8 \text{ gedeeld door } 4 & \text{is} & \boxed{2} & 4 \text{ gedeeld door } 4 & \text{is} & \boxed{1} \\ 12 & : & 4 & = & \boxed{3} & 8 & : & 4 & = & \boxed{2} & 4 & : & 4 & = & \boxed{1} \end{array}$$

4. Delen door 5:



$$\begin{array}{ccccccc} 5 \text{ gedeeld door } 5 & \text{is} & \boxed{1} & 15 \text{ gedeeld door } 5 & \text{is} & \boxed{3} & 10 \text{ gedeeld door } 5 & \text{is} & \boxed{2} \\ 5 & : & 5 & = & \boxed{1} & 15 & : & 5 & = & \boxed{3} & 10 & : & 5 & = & \boxed{2} \end{array}$$