

## DE GETALLEN TOT 10



Vul de ontbrekende getallen in.  
Het voorbeeld laat je zien hoe het moet!

Bijv:

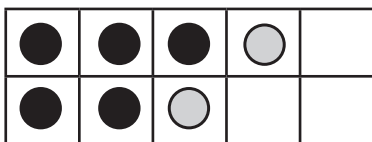


Schrijf de ontbrekende getallen in de juiste volgorde in de lege eieren.




Schrijf de juiste som c.q. kleur het juiste aantal cirkels in de vakjes.

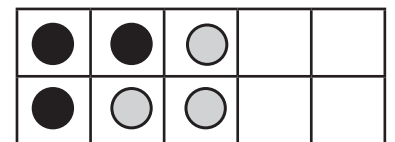
Bsp:



$$5 + 2 = 7$$

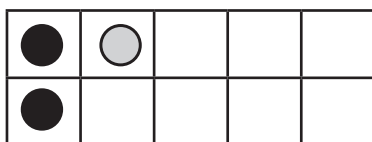


$$8 + 2 = 10$$

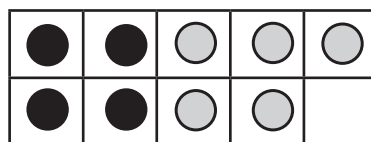


$$3 + 3 = 6$$

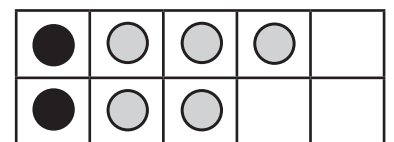
Let op, nu gaat het andersom!



$$2 + 1 = 3$$



$$4 + 5 = 9$$



$$2 + 5 = 7$$