











Wegwijs worden

Kaarten en plattegronden zijn vaak verdeeld in gelijk grootte vakjes, die zijn beschreven met cijfers en letters. Dit staat bekend als een coördinatenstelsel. Zoek uit wat zich waar bevindt en vul het in de tabel in.

	1	2	3	4	5
A					
B					
C					
D					
E					
F					
G					

Er is een voorbeeld gegeven:







auto	E	2
boom	C	1
huis	D	3
bergen	B	3-5
kever	F	5
spin	G	1
bloem	F	4
wolk	B	5
ballonnen	A	2

Teken de volgende dingen, en bepaal hun posities:

kinderen		
koe		
tractor		

Teken nu de volgende dingen op de juiste plaat in!

- groene driehoek B3
- oranje cirkel C1
- blauw vierkant A5
- gele ster A2
- roze rechthoek B4
- rood hart C6
- huis B1
- boom A6

	1	2	3	4	5	6
A						
B						
C	