



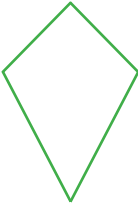




## Eigenschappen van vierhoeken

Knip de vierhoeken van de tweede pagina uit en probeer hiermee de tabel compleet te maken!  
Als hulpmiddel vindt je in de vakjes de eigenschappen, die je alleen nog op de juiste plaats dient in te delen!

soort	schets	Aantal symmetrieassen	eigenschappen
vierkant		4	Alle vier de zijden hebben dezelfde lengte.
rechthoek		2	Er zijn 4 rechte hoeken.
parallelogram		0	Tegenover elkaar liggende zijden zijn parallel.
ruit		2	Tegenover elkaar liggende hoeken zijn even groot.
vlieger		1	De aanliggende zijden zijn twee aan twee gelijk.
trapezium		0	Een paar tegenover elkaar liggende zijden is parallel.
onregelmatige vierhoek		0	Er is geen symmetrieas.

Alle vier de zijden zijn even lang.

Er is geen symmetrieas.

Er zijn 4 rechte hoeken.

Een paar tegenover elkaar liggende zijden is parallel.

De aanliggende zijden zijn twee aan twee gelijk.

Tegenover elkaar liggende hoeken zijn even groot.

Tegenover elkaar liggende zijden zijn parallel.

