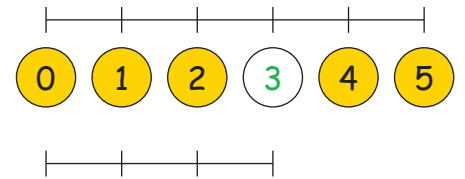
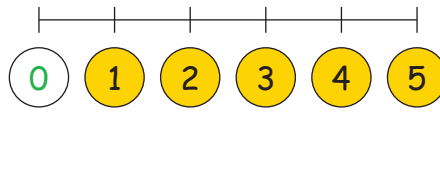
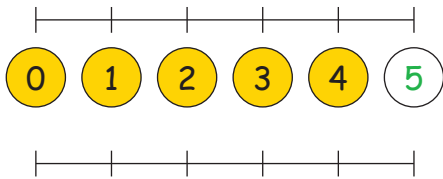
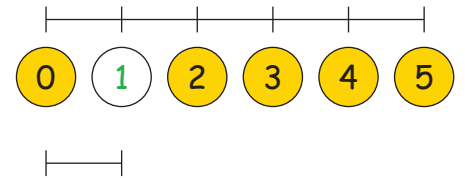
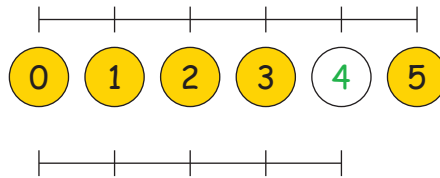
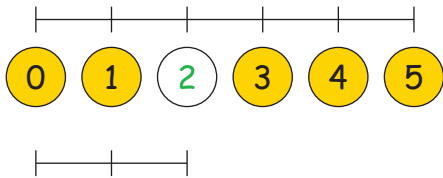


Getallenlijn tot 51. De cijfers tot 5:2. Vul de ontbrekende cijfers in:

Neem een liniaal als hulpmiddel.

3. Vul de buren van de cijfers in:

| | | |
|---|---|---|
| 1 | 2 | 3 |
|---|---|---|

| | | |
|---|---|---|
| 0 | 1 | 2 |
|---|---|---|

| | | |
|---|---|---|
| 3 | 4 | 5 |
|---|---|---|

| | | |
|---|---|---|
| 1 | 2 | 3 |
|---|---|---|

| | | |
|---|---|---|
| 2 | 4 | 5 |
|---|---|---|

| | | |
|---|---|---|
| 2 | 3 | 4 |
|---|---|---|

| | | |
|---|---|---|
| 0 | 1 | 2 |
|---|---|---|

| | | |
|---|---|---|
| 2 | 3 | 4 |
|---|---|---|

4. Los de volgende sommen op:

| | | | | |
|---|---|---|---|---|
| 1 | + | 3 | = | 4 |
|---|---|---|---|---|

| | | | | |
|---|---|---|---|---|
| 2 | + | 1 | = | 3 |
|---|---|---|---|---|

| | | | | |
|---|---|---|---|---|
| 0 | + | 1 | = | 1 |
|---|---|---|---|---|

| | | | | |
|---|---|---|---|---|
| 3 | + | 2 | = | 5 |
|---|---|---|---|---|

| | | | | |
|---|---|---|---|---|
| 1 | + | 3 | = | 4 |
|---|---|---|---|---|

| | | | | |
|---|---|---|---|---|
| 1 | + | 1 | = | 2 |
|---|---|---|---|---|

| | | | | |
|---|---|---|---|---|
| 5 | + | 0 | = | 5 |
|---|---|---|---|---|

| | | | | |
|---|---|---|---|---|
| 3 | + | 2 | = | 5 |
|---|---|---|---|---|

| | | | | |
|---|---|---|---|---|
| 2 | + | 1 | = | 3 |
|---|---|---|---|---|

| | | | | |
|---|---|---|---|---|
| 1 | + | 1 | = | 2 |
|---|---|---|---|---|

| | | | | |
|---|---|---|---|---|
| 4 | + | 1 | = | 5 |
|---|---|---|---|---|

| | | | | |
|---|---|---|---|---|
| 2 | + | 2 | = | 4 |
|---|---|---|---|---|

| | | | | |
|---|---|---|---|---|
| 2 | + | 1 | = | 0 |
|---|---|---|---|---|

| | | | | |
|---|---|---|---|---|
| 0 | + | 2 | = | 2 |
|---|---|---|---|---|

| | | | | |
|---|---|---|---|---|
| 3 | + | 2 | = | 5 |
|---|---|---|---|---|