


Het getal 6 - optellen

In elke cirkel moeten in totaal 6 punten zijn afgebeeld. Kleur het aantal ontbrekende punten met groen in de cirkel!



Vul in de lege vakjes de juiste buurgetallen in.


4	5	6
---	---	---

6	7	8
---	---	---

5	6	7
---	---	---


4	5	6
---	---	---

Zet de getallen in de juiste volgorde.



Maak de sommen af, door het juiste getal in de vakjes in te vullen.

$4 + \boxed{2} = 6$



$3 + \boxed{3} = 6$



$1 + \boxed{5} = 6$



$5 + \boxed{1} = 6$



$2 + \boxed{4} = 6$



$6 + \boxed{0} = 6$

