


Oefeningen in het getalengebied 10


1. Zet de getallen in de juiste volgorde:

1	2	3	4	5	6	7	8	9	10
---	---	---	---	---	---	---	---	---	----



2. Opgaven met tekst:

In de zee zwemmen 4 haaien en 5 dolfijnen.



4	+	5	=	9
---	---	---	---	---

Op het dak zitten 3 duiven en 2 mussen.




3	+	2	=	5
---	---	---	---	---

In het restaurant zitten 4 mannen en 3 vrouwen.



4	+	3	=	7
---	---	---	---	---

Op het bord zijn 6 hamburgers. Marcel eet er 4 van op.




6	-	4	=	2
---	---	---	---	---

Op een bloem zitten 5 lieveheersbeestjes. 3 Vliegen er weg.



5	-	3	=	2
---	---	---	---	---

In de stal staan 4 paarden. Met 2 ervan wordt een buitenrit gemaakt.



4	-	2	=	2
---	---	---	---	---

3. Maak uit de sommen, opgaven met tekst:

1	+	7	=	8
---	---	---	---	---

8	-	3	=	5
---	---	---	---	---

9	-	5	=	4
---	---	---	---	---

2	+	4	=	6
---	---	---	---	---
