

Opbouw van natuurlijke getallen

Opdracht 1 - Zoek de getallen

a) Geef de cijfers met behulp van vierkanten weer.
Het cijfer 10 wordt rood ingekleurd, en het cijfer 1 blauw.

 = 10  = 1


5 = 

11 = 

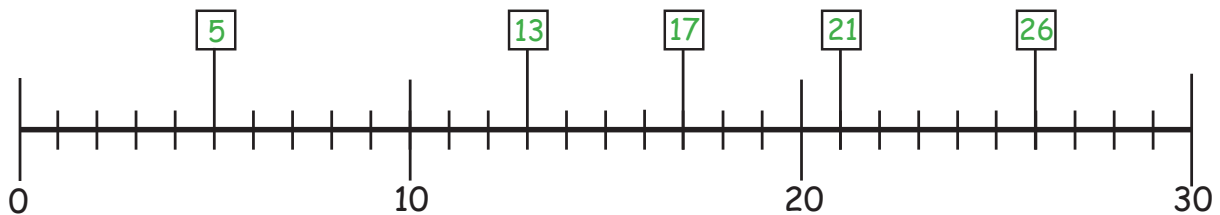
30 = 

23 = 

16 = 



b) Welke getallen zie je op de getallenlijn?



c) Een getal hoort niet in het vak. Streep dit getal door!



24	23	26
20		29
25	13	21
27		

15	13	10
22	18	16
17		19
	11	

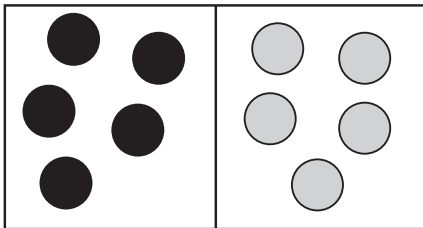
25	3	
	20	29
13	15	
16	11	23

Opdracht 2 - Kijk goed

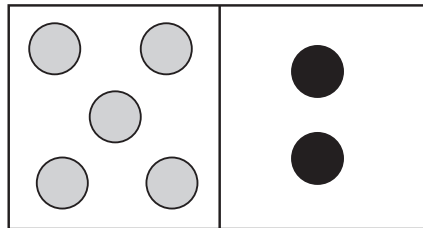


a) Verdeel de getallen zo, dat op de dominostenen eronder het verkregen getal ontstaat. Neem daarvoor een kleurpotlood! Er zijn natuurlijk verschillende mogelijkheden hoe de oplossing eruit ziet.

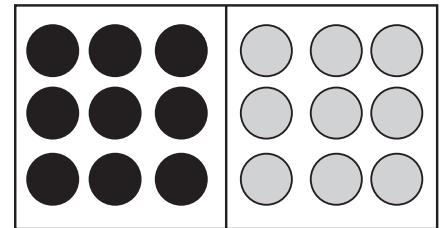
10



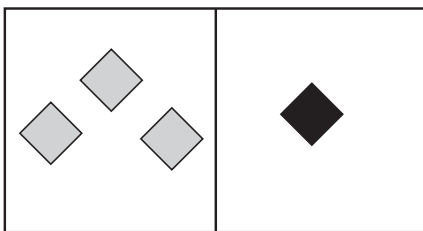
7



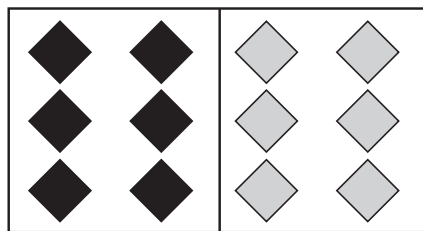
18



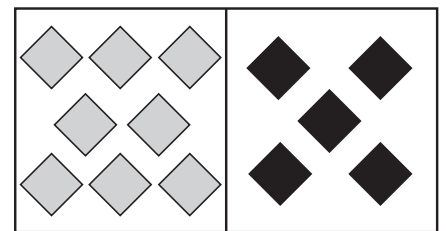
4



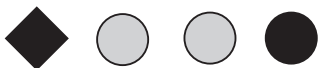
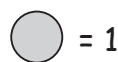
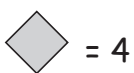
12



13



b) Welke getallen zie je hier? Bekijk de individuele symbolen goed!



Het is het getal 18



Het is het getal 24



Het is het getal 13



Het is het getal 25



Het is het getal 29

