


Optellen tot 41. Hoeveel zijn er?


3



2




4



4

2. Kaarten bij elkaar leggen:

Knip eerst uit papier of karton kaartjes uit. Leg ze dan volgens het voorbeeld bij elkaar en los dan de sommen op.



$$2 + 2 = \underline{4}$$



$$3 + 1 = \underline{4}$$



$$1 + 2 = \underline{3}$$



$$1 + 3 = \underline{4}$$



$$1 + 2 + 1 = \underline{4}$$



$$2 + 1 + 1 = \underline{4}$$



$$2 + 1 = \underline{3}$$



$$1 + 1 + 2 = \underline{4}$$



$$1 + 1 + 1 = \underline{3}$$

3. Reken de volgende sommen uit:

$$1 + 3 = \underline{4}$$

$$1 + 1 = \underline{2}$$

$$0 + 2 = \underline{2}$$

$$2 + 1 = \underline{3}$$

$$4 + 0 = \underline{4}$$

$$1 + 2 = \underline{3}$$

$$3 + 1 = \underline{4}$$

$$1 + 2 = \underline{3}$$

$$1 + 0 = \underline{1}$$

$$0 + 3 = \underline{3}$$

$$2 + 2 = \underline{4}$$

$$3 + 1 = \underline{4}$$