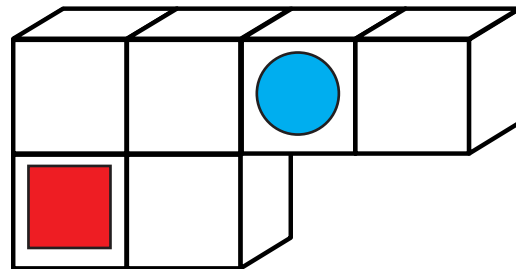
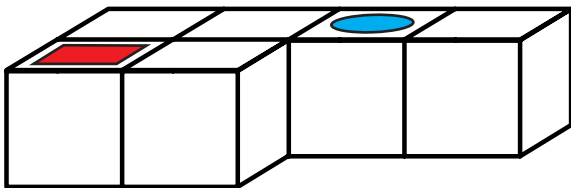
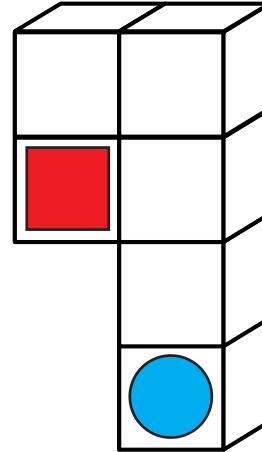
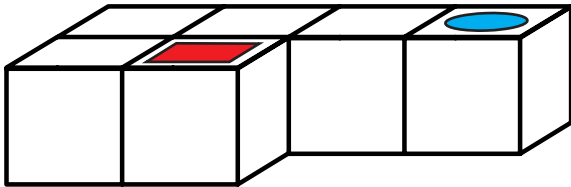


Perspectief denken en getallenquiz

- 1 Hier zie je op het linker-lichaam steeds twee verschillende vormen. Breng ze over op het rechter lichaam. Denk goed na!



- 2 Probeer uit de 3 volgende cijfers zo veel mogelijk driecijferige nummers te vormen, schrijf alle combinaties die je kunt bedenken op de lijnen aan de rechterkant!

3 5 0

350, 305, 530, 503

Men kan 4 driecijferige nummers vormen.

9 7 4

974, 947, 749, 794, 497, 479

Men kan 6 driecijferige nummers vormen.