

Rekenen met ons geld


1. De verkorte vorm:

Euro heet afgekort €!!




20	euro	→	20	€
10	euro	→	10	€
5	euro	→	5	€
2	euro	→	2	€
1	euro	→	1	€

2. Hoeveel euro zie je?



5 €



8 €



15 €




18 €



23 €


3. Hoeveel euro moet je tekenen?




14 €




22 €



6 €



29 €



3 €

4. Optellen:

4 € en 5 € is bij elkaar opgeteld?

2 € en 3 € is bij elkaar opgeteld?

6 € en 1 € is bij elkaar opgeteld?

8 € en 7 € is bij elkaar opgeteld?

9	€
5	€
7	€
15	€