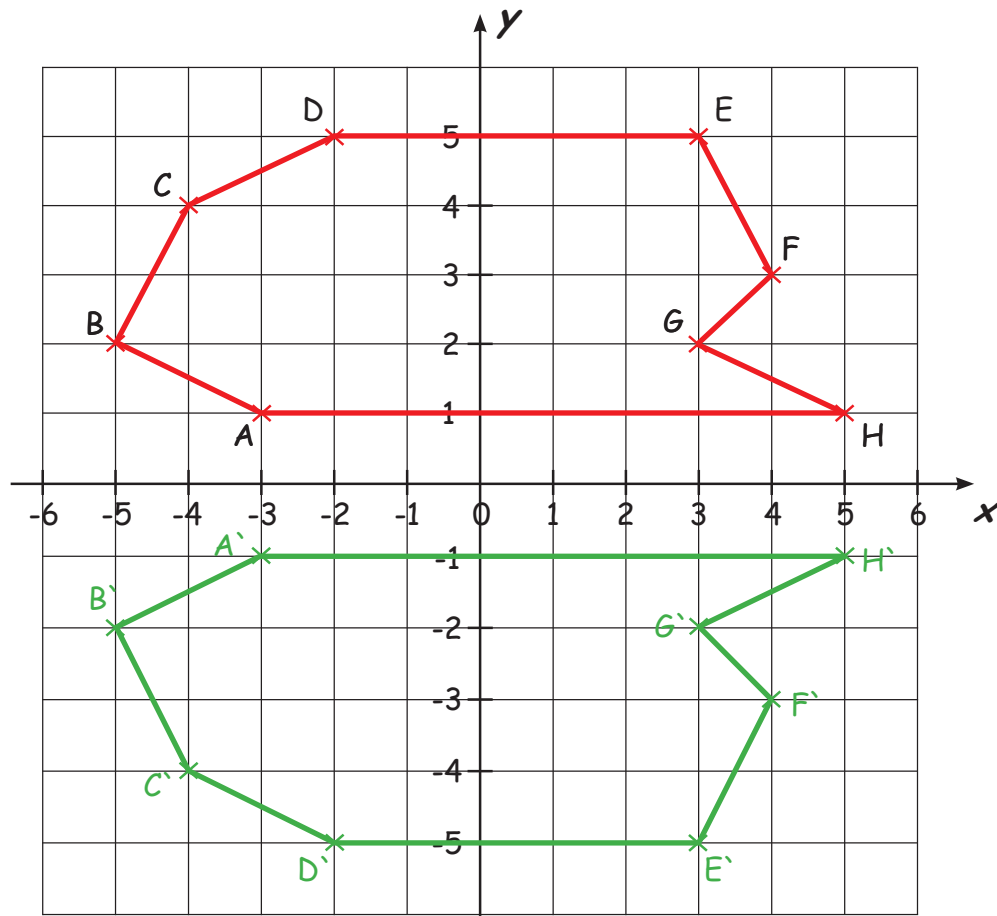


## Spiegeln im Koordinatensystem

Spiegle die folgenden Figuren an der x-Achse und beschrifte die entstandenen Eckpunkte!



A' ( -3 / -1 )

B' ( -5 / -2 )

C' ( -4 / -4 )

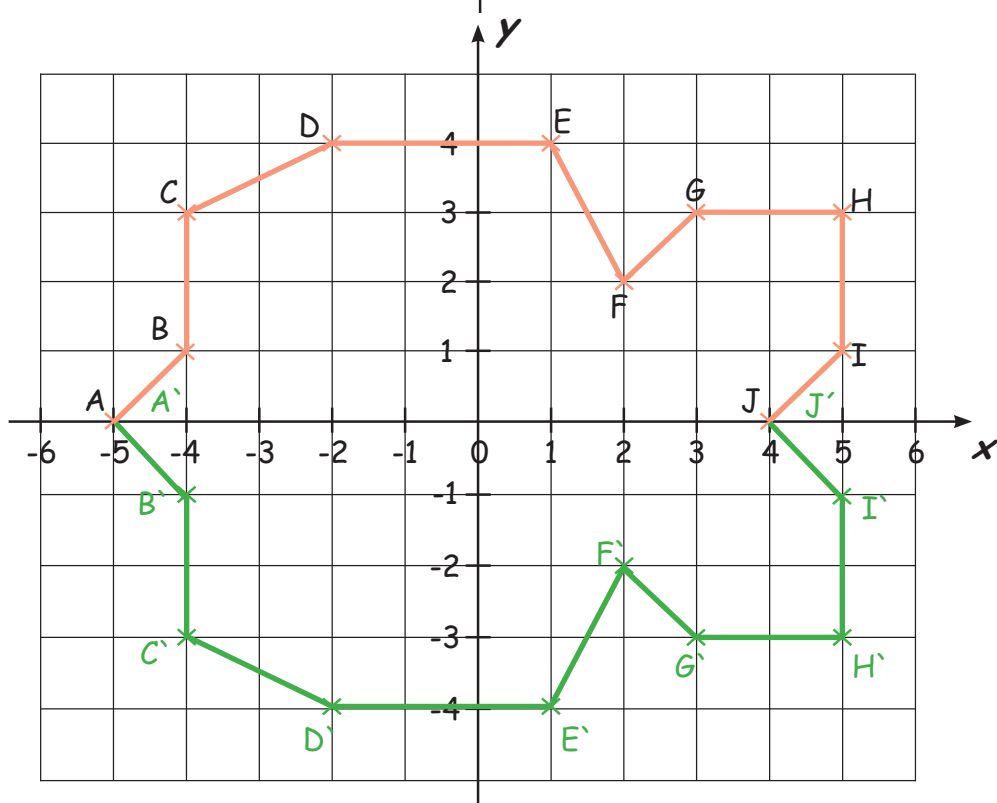
D' ( -2 / -5 )

E' ( 3 / -5 )

F' ( 4 / -3 )

G' ( 3 / -2 )

H' ( 5 / -1 )



A' ( -5 / 0 )

B' ( -4 / -1 )

C' ( -4 / -3 )

D' ( -2 / -4 )

E' ( 1 / -4 )

F' ( 2 / -2 )

G' ( 3 / -3 )

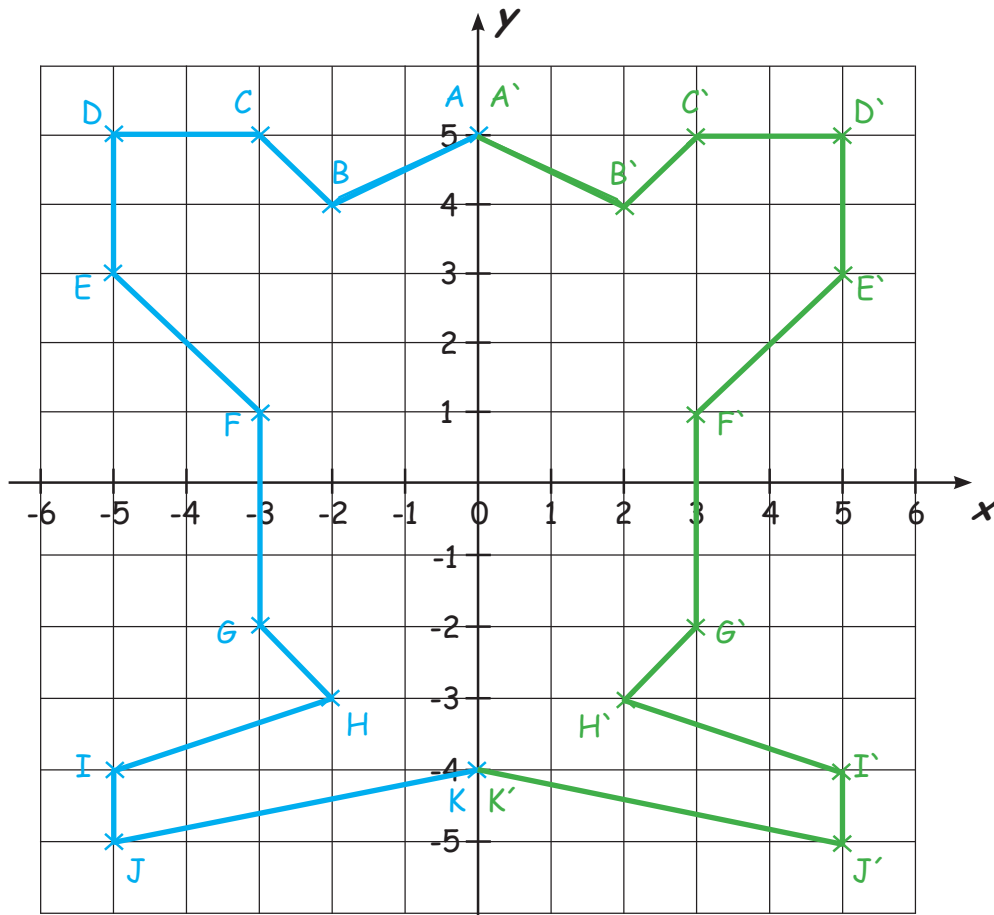
H' ( 5 / -3 )

I' ( 5 / -1 )

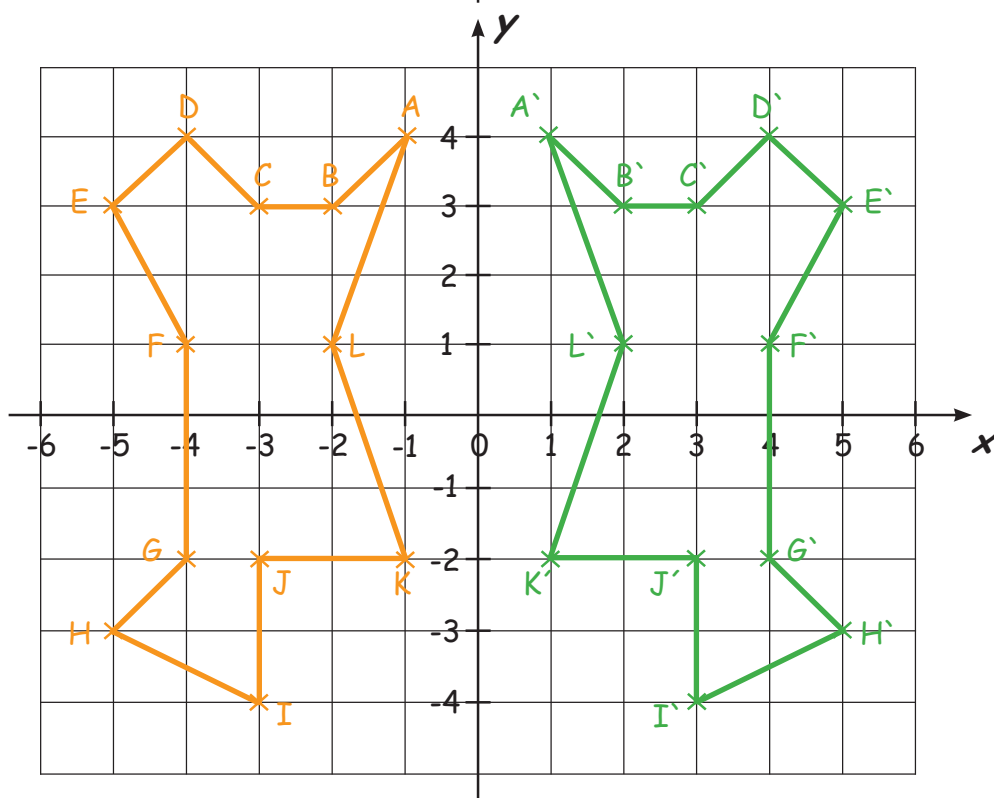
J' ( 4 / 0 )

## Spiegeln im Koordinatensystem

Spiegle die folgenden Figuren an der y-Achse und beschrifte die entstandenen Eckpunkte!



- A' ( 5 / 0 )
- B' ( 2 / 4 )
- C' ( 3 / 5 )
- D' ( 5 / 5 )
- E' ( 5 / 3 )
- F' ( 3 / 1 )
- G' ( 3 / -2 )
- H' ( 2 / -3 )
- I' ( 5 / -4 )
- J' ( 5 / -5 )
- K' ( 4 / -4 )



- A' ( 1 / 4 )
- B' ( 2 / 3 )
- C' ( 3 / 3 )
- D' ( 4 / 4 )
- E' ( 5 / 3 )
- F' ( 4 / 1 )
- G' ( 4 / -2 )
- H' ( 5 / -3 )
- I' ( 3 / -4 )
- J' ( 3 / -2 )
- K' ( 1 / -2 )
- L' ( 2 / 1 )