

TAFELS VAN VERMENIGVULDIGING

Iedereen ziet het een beetje anders.

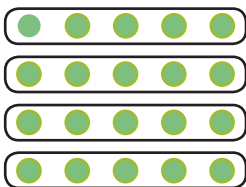


Anna kijkt naar de muffins en ziet 5 rijtjes van vier stuks.
Jonas ziet 4 keer 5 muffins en
David kijkt naar de muffins en ziet er 2 maal 10 stuks.

1.

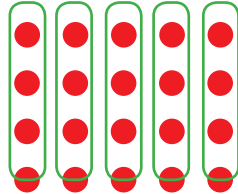
Schrijf de verschillende sommen op en omcirkel daarna de punten.

Voorbeeld:



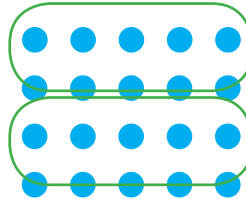
$$4 \times 5 = 20$$

$$5+5+5+5=20$$



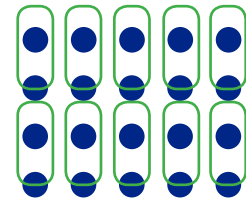
$$5 \times 4 = 20$$

$$4+4+4+4+4=20$$



$$2 \times 10 = 20$$

$$10+10 = 20$$




$$10 \times 2 = 20$$

$$2+2+2+2+2+2+2+2=20$$


2.

Probeer ook hier de juiste sommen te ontdekken.



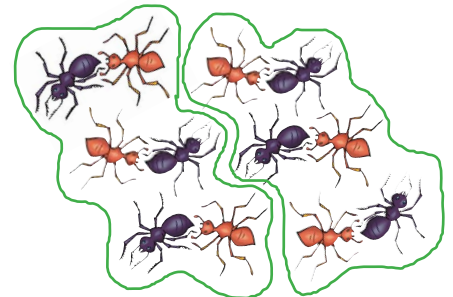
$$2 \times 3 = 6$$

$$3 + 3 = 6$$



$$3 \times 5 = 15$$

$$5 + 5 + 5 = 15$$



$$2 \times 6 = 12$$

$$6 + 6 = 12$$

De oplossing en zeer veel andere werkbladen om gratis te downloaden:

www.aduis.nl. Neemt u een kijkje.