




Tekstopgaven in het getallengebied 10



Stephanie krijgt voor haar verjaardag een zak met gele en groene knikkers. Er zijn 6 gele en 2 groene knikkers. Hoeveel knikkers heeft ze in totaal?

$$6 + 2 = 8$$

Stephanie heeft in totaal 8 knikkers



In een weiland grazen 4 paarden en 3 koeien. Hoeveel dieren kan men in het weiland zien?

$$4 + 3 = 7$$

Men kan 7 dieren in het weiland zien.

Melanie heeft van haar oma € 9 voor haar verjaardag gekregen. Ze koopt kleurpotloden voor € 5. Hoeveel geld heeft Melanie nog over?



$$9 - 5 = 4 \quad \text{Melanie heeft nog € 4 over.}$$



Van 8 kg appels verkoopt een handelaar 4 kg aan mevrouw Muller. Hoeveel kg appels heeft de handelaar nog?

$$8 - 4 = 4 \quad \text{De handelaar heeft nog 4 kg appels.}$$


Tekstopgaven in het getallengebied 10



Lucas gooit met twee dobbelstenen. Eenmaal gooit hij 2 ogen en de tweede keer 5 ogen.
Hoeveel heeft hij in totaal gegooid?

$$2 + 5 = 7$$

Lucas heeft in totaal 7 ogen gegooid.



De waard heeft in zijn vat 7 liter sinaasappelsap.
Op een warme dag, verkoopt hij 6 liter.
Hoeveel liter sinaasappelsap heeft de waard nog over?

$$7 - 6 = 1$$

De waard heeft nog 1 liter sinaasappelsap over.

Alexander de baby zet zijn eerste stapjes.
Hij zet er eerst 3 en daarna nog 2.
Hoeveel stappen heeft hij in totaal gezet.

$$3 + 2 = 5$$

Alexander heeft in totaal 5 stappen gezet.

