








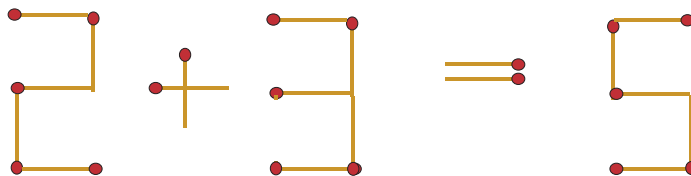


Vaardighedentest



Oppervlakken / rekenkundige bewerkingen

-  Welk vlak ontstaat, wanneer je drie vierkanten op elkaar legt?
 Er ontstaat een . 
-  Welk vlak ontstaat, wanneer je twee vierkanten naast elkaar en twee vierkanten naast elkaar eronder legt?
 Er ontstaat een . 
-  Welk vlak ontstaat, wanneer je vier vierkanten boven op elkaar legt?
 Er ontstaat een . 
-  Leg een luciferhoutje anders neer, zodat de som klopt.



-  Bij de deling klopt iets niet. Weet je wat?

$$\begin{array}{r} \overline{10170} : 53 = 190 \\ 487 \\ 10 \\ 0 \text{ R} \end{array}$$

$$\ddot{U}: 10\ 000 : 50 = 200$$

- De waarde is verkeerd bepaald.
 De tientallen werden niet opgeschreven.
 De rest werd verkeerd berekend.
 De eenheden werden niet opgeschreven.