




**Wie gut ist deine Orientierung?**

Zeichne das Sternchen \* nach Angabe!

Lösungen sind teilweise beispielhaft!

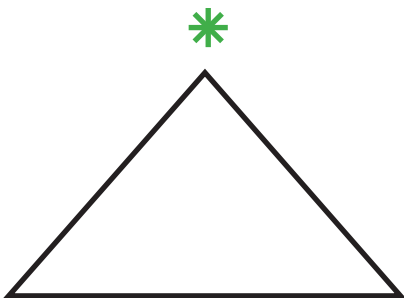
links oben im Kreis



links unten im Rechteck



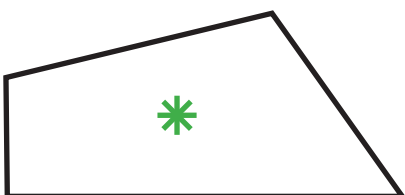
oberhalb des Dreiecks




zwischen den beiden Strichen




innerhalb des Vierecks



unterhalb des Quadrates



außerhalb des Kreises




in der Mitte der Strecke






Wie gut ist deine Orientierung?

Wo ist das Sternchen? Kreise die richtige Antwort ein!




innerhalb des Rechtecks

außerhalb des Rechtecks




links oben

rechts unten



außerhalb rechts

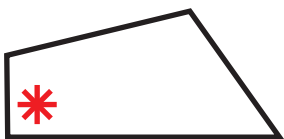
außerhalb links




in der Mitte oben

in der Mitte unten

Was stimmt nicht? Streiche es durch!



links unten



außerhalb



rechts daneben



oberhalb