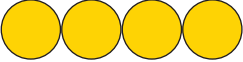





















Rekenen in het cijfergebied tot 5









1. Reken de volgende sommen uit. Neem je vingers als hulpmiddel.

 $4 + 1 = \underline{\quad}$	 $2 + 3 = \underline{\quad}$	 $3 + 1 = \underline{\quad}$	 $1 + 2 = \underline{\quad}$
 $2 + 2 = \underline{\quad}$	 $1 + 4 = \underline{\quad}$	 $3 + 2 = \underline{\quad}$	 $0 + 4 = \underline{\quad}$
 $1 + 3 = \underline{\quad}$	 $3 + 0 = \underline{\quad}$	 $0 + 5 = \underline{\quad}$	 $2 + 1 = \underline{\quad}$

2. Streep de hokjes die je af moet trekken door, en los dan de sommen op:

 $4 - 1 = \underline{\quad}$	 $5 - 2 = \underline{\quad}$	 $3 - 1 = \underline{\quad}$	 $4 - 3 = \underline{\quad}$
 $5 - 3 = \underline{\quad}$	 $4 - 2 = \underline{\quad}$	 $5 - 1 = \underline{\quad}$	 $5 - 4 = \underline{\quad}$

3. Vul de ontbrekende cijfers in:

 $4 - \underline{\quad} = 2$	 $4 - \underline{\quad} = 3$	 $5 - \underline{\quad} = 2$	 $5 - \underline{\quad} = 4$
 $5 - \underline{\quad} = 1$	 $4 - \underline{\quad} = 1$	 $3 - \underline{\quad} = 2$	 $5 - \underline{\quad} = 3$

4. Cijfers invullen:

In het bovenste deel van de tabel staat het resultaat. Vul de daaronder staande cijfers aan tot het bovenstaande cijfer.

2	
2	
0	
1	

4	
3	
1	
4	
2	

3	
0	
2	
1	
3	

5	
1	
3	
2	
4	