















## Rekenen met afbeeldingen
















Probeer de sommen op te lossen!  
Dezelfde afbeeldingen betekenen dezelfde getallen!

		:		=	
-			X		+
		+		=	
=			=		=
				=	
				=	

vul de oplossing in de vakjes in:

<input type="text"/>	<input type="text"/>	:	<input type="text"/>	=	<input type="text"/>
-			X		+
<input type="text"/>	<input type="text"/>	+	<input type="text"/>	=	<input type="text"/>
=			=		=
<input type="text"/>	<input type="text"/>		<input type="text"/>	=	<input type="text"/>
			<input type="text"/>	=	<input type="text"/>

## Rekenen met afbeeldingen

		:		=	
+			×		+
		-		=	
=			=		
				=	
				=	

vul de oplossing in de vakjes in:

<input style="width: 60px; height: 60px;" type="text"/>	<input style="width: 60px; height: 60px;" type="text"/>	:	<input style="width: 60px; height: 60px;" type="text"/>	=	<input style="width: 60px; height: 60px;" type="text"/>
+			×		+
<input style="width: 60px; height: 60px;" type="text"/>	<input style="width: 60px; height: 60px;" type="text"/>	-	<input style="width: 60px; height: 60px;" type="text"/>	=	<input style="width: 60px; height: 60px;" type="text"/>
=			=		<input style="width: 60px; height: 60px;" type="text"/>
<input style="width: 60px; height: 60px;" type="text"/>	<input style="width: 60px; height: 60px;" type="text"/>		<input style="width: 60px; height: 60px;" type="text"/>	=	<input style="width: 60px; height: 60px;" type="text"/>
			<input style="width: 60px; height: 60px;" type="text"/>	=	<input style="width: 60px; height: 60px;" type="text"/>