




Tekstopgaven in het getallengebied 10




Stephanie krijgt voor haar verjaardag een zak met gele en groene knikkers. Er zijn 6 gele en 2 groene knikkers. Hoeveel knikkers heeft ze in totaal?

In een weiland grazen 4 paarden en 3 koeien. Hoeveel dieren kan men in het weiland zien?



Melanie heeft van haar oma € 9 voor haar verjaardag gekregen. Ze koopt kleurpotloden voor € 5. Hoeveel geld heeft Melanie nog over?






Van 8 kg appels verkoopt een handelaar 4 kg aan mevrouw Muller. Hoeveel kg appels heeft de handelaar nog?

Tekstopgaven in het getallengebied 10



Lucas gooit met twee dobbelstenen. Eenmaal gooit hij 2 ogen en de tweede keer 5 ogen.
Hoeveel heeft hij in totaal gegooid?



De waard heeft in zijn vat 7 liter sinaasappelsap.
Op een warme dag, verkoopt hij 6 liter.
Hoeveel liter sinaasappelsap heeft de waard nog over?

Alexander de baby zet zijn eerste stapjes.
Hij zet er eerst 3 en daarna nog 2.
Hoeveel stappen heeft hij in totaal gezet.

