
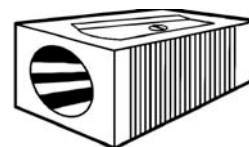




Welke objecten trekken een magneet aan?



- Kruis aan welke voorwerpen door een magneet worden aangetrokken.
- Met de letters die je door de oplossing verkrijgt kun je de zin onderaan oplossen.
- Neem drie voorwerpen, schrijf ze in de lege kolommen en kijk of ze magnetisch zijn.

Oplossing	Voorwerpen	magnetisch	niet magnetisch
R	Blouse		
I	Sleutel		
A	Boek		
J	Puntenslijper		
L	Dobbelsteen		
Z	Schaar		
C	Poes		
K	Tabletjes		
E	Schroeven		
R	Spijker		



Alle voorwerpen die uit zijn trekken een magneet aan.